

PREFEITURA DO MUNICÍPIO DE ARIRANHA DO IVAÍ

CARGO: OPERADOR DE MÁQUINA PESADA

EDITAL Nº 01/2016

DATA: 29/05/2016 - PERÍODO: MANHÃ

LEIA AS INSTRUÇÕES ABAIXO:

1. Você deve receber do fiscal o material abaixo:
 - a) Este caderno com 50 questões objetivas sem repetição ou falha.
 - b) Um **CARTÃO-RESPOSTA** destinado às respostas da prova.
 - c) Para realizar sua prova, use apenas o material mencionado acima e em hipótese alguma, papéis para rascunho.
2. Verifique se este material está completo, em ordem e se seus dados pessoais conferem com aqueles constantes no **CARTÃO-RESPOSTA**, caso haja alguma divergência, você deve comunicar ao fiscal de sala.
3. Após a conferência, você deverá assinar o seu nome completo, no espaço próprio do **CARTÃO-RESPOSTA** utilizando caneta esferográfica de tinta de cor azul ou preta.
4. Escreva o seu nome e assine nos espaços indicados neste **CADERNO DE QUESTÕES**, bem como o preenchimento do campo reservado à informação de seu número de inscrição.
5. No **CARTÃO-RESPOSTA**, a marcação das letras, correspondentes às respostas de sua opção, deve ser feita com o preenchimento de todo o espaço do campo reservado para tal fim.
6. Tenha muito cuidado com o **CARTÃO-RESPOSTA**, para não dobrar, amassar ou manchar, pois este é personalizado e em hipótese alguma poderá ser substituído.
7. Não será permitido o uso de borracha ou corretivo de qualquer espécie no **CARTÃO-RESPOSTA**, bem como qualquer outro tipo de rasura.
8. Para cada uma das questões são apresentadas 4 (quatro) alternativas classificadas com as letras (a), (b), (c), e (d); somente uma responde adequadamente ao quesito proposto. Você deve assinalar **apenas uma alternativa para cada questão**; a marcação em mais de uma alternativa anula a questão, **mesmo que uma das respostas esteja correta**; também serão nulas as marcações rasuradas.
9. As questões são identificadas pelo número que fica à esquerda de seu enunciado.
10. Os fiscais não estão autorizados a emitir opinião nem a prestar esclarecimentos sobre o conteúdo da Prova. Cabe única e exclusivamente ao candidato interpretar e decidir a este respeito.
11. Reserve os 30 (trinta) minutos finais do tempo de prova para marcar seu **CARTÃO-RESPOSTA**. Os rascunhos e as marcações assinaladas no **CADERNO DE QUESTÕES** não serão levados em conta.
12. Quando terminar sua prova, entregue ao Fiscal de Sala, obrigatoriamente o **CARTÃO-RESPOSTA** devidamente assinado e o **CADERNO DE QUESTÕES**.
13. O **TEMPO DE DURAÇÃO PARA ESTA PROVA É DE 3h00min.**
14. Por motivos de segurança, você somente poderá ausentar-se da sala de prova após decorrida **1 (uma) hora.**

N.º DE INSCRIÇÃO						

ASSINATURA

NOME DO CANDIDATO (Letra de Forma)

Corte na linha pontilhada-----

01	02	03	04	05	06	07	08	09	10	11	12	13	14	15	16	17	18	19	20	21	22	23	24	25
26	27	28	29	30	31	32	33	34	35	36	37	38	39	40	41	42	43	44	45	46	47	48	49	50

UM GRANDE CAVALHEIRO

(Autor desconhecido)

1º Houve um grande reboliço em Madrigueira do Claro, uma cidade habitada por coelhos. Um grande cavalheiro viria morar ali. Ao que parecia, era muito rico e famoso em todo o mundo! Finalmente, numa manhã de primavera, chegou à cidade o novo cidadão. Todos ficaram admirados de seu _____ elegante e da distinção de seus _____. Na verdade era um grande cavalheiro!

2º Durante algum tempo, trataram o recém-chegado como um rei. Ele deixava-se adorar, sem falar mais do que o necessário. Foi então que aconteceu uma catastrofê. As chuvas intencas tinham causado uma inundação que prejudicara algumas tocas. Organizou-se, então, uma coleta de donativos entre os habitantes. Todos deram a sua contribuição, exceto o “grande cavalheiro”, que se negou a doar um único centavo.

3º A decepção foi enorme entre os vizinhos da aldeia. A partir daquele dia, o rico avarento foi tratado com a maior indiferença. Deixaram-no em tal _____, que ele resolveu ir embora. Começou a afastar-se dali, enquanto os vizinhos estavam reunidos em um prado próximo, para tratar dos assuntos da comunidade. Então, o cavalheiro percebeu que estava saindo fumaça de várias tocas. A cidade estava em chamas!

4º Rápido como um relâmpago, ele interveio. Conseguir apagar o fogo em meia hora. Quando souberam da notícia, os vizinhos ficaram muito agradecidos. Mais ainda: quando ouviram as confissões daquele que pensaram ser um grande cavalheiro, concederam-lhe o seu perdão. Na verdade, ele não era rico. Tinha-se feito passar por uma pessoa de posses para assegurar a amizade de todos. A boa ação que ele praticara é que lhe valeu uma amizade sincera e o reconhecimento dos moradores daquela cidade.

01 - Assinale a alternativa que preenche corretamente as lacunas do texto:

- a) Trajes – jestos – isolamento.
- b) Trages – gestos – isolamento.
- c) Trajes – gestos – isolamento.
- d) Trages – jestos – isolamento.

02 - Assinale a alternativa que indica corretamente o número de sílabas existentes em “decepção”:

- a) 3 sílabas.
- b) 4 sílabas.
- c) 5 sílabas.

d) 6 sílabas.

03 - Assinale a alternativa em que o plural da palavra retirada do texto está errado:

- a) Cidadão = cidadãos.
- b) Inundação = inundações.
- c) Decepção = decepções.
- d) Ação = ações.

04 - Assinale a alternativa em que a palavra está escrita incorretamente:

- a) Reboliço.
- b) Intencas.
- c) Indiferença.
- d) Fumaça.

05 - Assinale a alternativa em que a divisão silábica está correta:

- a) Fi-nal-mente.
- b) A-d-mi-ra-dos.
- c) Re-u-ni-dos.
- d) As-se-gu-rar.

06 - Assinale a alternativa em que a palavra está acentuada corretamente:

- a) Catastrofê.
- b) Único.
- c) Relâmpago.
- d) Notícia.

07 - Assinale a alternativa em que o feminino dos substantivos masculinos está incorreto:

- a) Cidadão = cidadona.
- b) Cavalheiro = dama.
- c) Rei = rainha.
- d) Morador = moradora.

SOBRE O TEXTO:

08 - O grande cavalheiro foi bem recebido pelos habitantes de Madrigueira Claro por quê?

- a) Era sincero.
- b) Impunha respeito.
- c) Aparentava ser rico.
- d) Era solidário.

09 - Na cidade de Madrigueira do Claro um coelho era valorizado por:

- a) Suas posses.
- b) Ser elegante.
- c) Suas contribuições.
- d) Suas ações e sinceridade.

10 - O grande cavaleiro só teve a amizade sincera dos moradores da cidade após:

- a) A boa ação que praticou.
- b) Reconhecer que era rico e avarento.
- c) Fixar moradia na aldeia.
- d) O perdão concedido pelos moradores da cidade.

11 - Dê o resultado:

$$\begin{array}{r} 256 \\ + 328 \\ \hline \end{array}$$

- a) 543.
- b) 584.
- c) 619.
- d) 811.

12 - Dê o resultado:

$$\begin{array}{r} 196 \\ - 107 \\ \hline \end{array}$$

- a) 89.
- b) 91.
- c) 79.
- d) 62.

13 - Dê o resultado:

$$\begin{array}{r} 186 \\ \times 21 \\ \hline \end{array}$$

- a) 1987.
- b) 2518.
- c) 3680.
- d) 3906.

14 - Filó gastou R\$ 200,00 para comprar 10 brindes. Quanto custou cada brinde?

- a) R\$ 10,00.
- b) R\$ 15,00.
- c) R\$ 20,00.
- d) R\$ 25,00.

15 - Se em uma fazenda existem 1395 cabeças de boi, quantas patas são ao todo?

- a) 4.185.
- b) 1.395.
- c) 5.580.
- d) 2.790.

16 - Dados os conjuntos $A = \{2,5,6\}$, $B = \{0,1,2\}$ e $C = \{0,4,6\}$, determine: $(A \cup B) \cup C$:

- a) $\{0,5\}$.
- b) $\{0,1,6\}$.
- c) $\{0,2,4,5\}$.
- d) $\{0,1,2,4,5,6\}$.

17 - Dados os conjuntos $A = \{4,8,10,12\}$ e $B = \{0,1,2,4,6,8\}$ determine: $A \cap B$:

- a) $\{4,10\}$.
- b) $\{4,8\}$.
- c) $\{0,4\}$.
- d) $\{0,1,2\}$.

18 - Indique qual alternativa abaixo é a única correta:

- a) $\frac{5}{14} > \frac{6}{15} > \frac{7}{16}$.
- b) $\frac{5}{14} > \frac{7}{16} > \frac{6}{15}$.
- c) $\frac{5}{14} < \frac{7}{16} < \frac{6}{15}$.

d) Nenhuma das alternativas anteriores.

19 - Se em 30 caixas cabem 60 quilos de mantimentos, quantos quilos caberão em 55 caixas?

- a) 70.
- b) 110.
- c) 120.
- d) 90.

20 - Todos os dias João Paulo dorme às 20 horas e acorda às 6 horas. Quantas horas João Paulo dorme por noite?

- a) 8 hs.
- b) 10 hs.
- c) 12 hs.
- d) 9 hs.

21 - A Abolição da Escravatura no Brasil foi assinada:

- a) Pela Princesa Regente.
- b) Pela Rainha.
- c) Pelo Imperador.
- d) Pelo Rei.

22 - As terras que atualmente formam o Estado de Tocantins foram desmembradas de que Estado Abaixo?

- a) Bahia.
- b) Goiás.
- c) Mato Grosso.
- d) Pará.

23 - Até algum tempo atrás todas as cédulas do Real tinham o mesmo tamanho, toda a "Família do Real" passou por modificações e ganhou um novo desenho, EXCETO a cédula de:

- a) R\$ 1,00.
- b) R\$ 2,00.
- c) R\$ 5,00.
- d) R\$ 10,00.

24 - De acordo com o informado no site da Prefeitura Municipal, os primeiros moradores da região onde hoje se localiza o nosso município eram em sua maioria:

- a) Católicos.
- b) Espíritas.
- c) Evangélicos.
- d) Umbandistas.

25 - É o órgão de cúpula do Poder Judiciário, e a ele compete, precipuamente, a guarda da Constituição:

- a) Advocacia Geral da União.
- b) Ministério da Justiça e Cidadania.
- c) Superior Tribunal de Justiça.
- d) Supremo Tribunal Federal.

26 - Em 2.016 completaremos quantos anos da criação do Distrito de Ariranha?

- a) 48 anos.
- b) 49 anos.
- c) 50 anos.
- d) 51 anos.

27 - Interventor Federal que permaneceu a frente do Governo do Paraná por quase 13 anos durante a Era Vargas:

- a) Brasil Pinheiro Machado.
- b) João Pernetá.
- c) Manuel Ribas.
- d) Mário Gomes da Silva.

28 - Na primeira década após o Descobrimento do Brasil, nossa população era composta por:

- a) Escravos e Índios.
- b) Escravos e Portugueses.
- c) Escravos, Índios e Portugueses.
- d) Índios e Portugueses.

29 - O anúncio de cortes de recursos para a área de cultura surpreendeu as associações dos bois Garantido e Caprichoso, do Festival de Parintins, a medida vai atingir em cheio o festival, marcado para os dias 24, 25 e 26 de junho deste ano. Em que região do Brasil esta festa é realizada?

- a) Centro-Oeste.
- b) Nordeste.
- c) Norte.
- d) Sudeste.

30 - Poucos dias depois de montar sua equipe governamental, o Presidente Temer já teve que alterar o seu ministério. Assinale nas alternativas

abaixo o nome do Ministério onde ocorreu a primeira substituição deste atual governo:

- a) Agricultura, Pecuária e Abastecimento.
- b) Fiscalização, Transparência e Controle.
- c) Planejamento, Desenvolvimento e Gestão.
- d) Secretaria de Governo da Presidência da República.

31 - Analise as assertivas abaixo e marque V (verdadeiro) e F (falso) e após assinale a alternativa que corresponde à sequência correta de cima para baixo:

() O trânsito, em condições seguras, é um dever de todos e direito dos órgãos e entidades componentes do Sistema Nacional de Trânsito, a estes cabendo, no âmbito das respectivas competências, adotar as medidas destinadas a assegurar esse dever.

() Os órgãos e entidades de trânsito pertencentes ao Sistema Nacional de Trânsito darão prioridade em suas ações a preservação da saúde e do meio-ambiente nela incluída à defesa da vida.

() Os órgãos e entidades componentes do Sistema Nacional de Trânsito respondem, no âmbito das respectivas competências, objetivamente, por danos causados aos cidadãos em virtude de ação, omissão ou erro na execução e manutenção de programas, projetos e serviços que garantam o exercício do direito do trânsito seguro.

() Considera-se trânsito a utilização das vias por pessoas, veículos e animais, isolados ou em grupos, conduzidos ou não, para fins de circulação, parada, estacionamento e operação de carga ou descarga.

- a) F, F, V, V.
- b) V, V, F, F.
- c) F, F, V, F.
- d) V, V, V, V.

32 - Analise as asserções e após assinale a alternativa que contenha informação verdadeira:

- a) Categoria C permite conduzir combinação de veículos em que a unidade tratora se enquadre nas categorias B, E ou D e cuja unidade acoplada, reboque, semirreboque, trailer ou articulada tenha 6.000 kg (seis mil quilogramas) ou mais de peso bruto total, ou cuja lotação exceda a 8 (oito) lugares.
- b) Todo veículo automotor, elétrico, articulado, reboque ou semi-reboque, para transitar na via, deverá ser licenciado mensalmente pelo órgão executivo de trânsito do Estado, ou do Distrito Federal, onde estiver registrado o veículo.

c) Nas vias rurais, quando não houver acostamento ou quando não for possível a utilização dele, a circulação de pedestres, na pista de rolamento, será feita com prioridade sobre os veículos, pelos bordos da pista, em fila única, em sentido ao deslocamento de veículos, exceto em locais proibidos pela sinalização e nas situações em que a segurança ficar comprometida.

d) O Sistema Nacional de Trânsito é o conjunto de órgãos e entidades da União, dos Estados, do Distrito Federal e dos Municípios que tem por finalidade o exercício das atividades de planejamento, administração, normatização, pesquisa, registro e licenciamento de veículos, formação, habilitação e reciclagem de condutores, educação, engenharia, operação do sistema viário, policiamento, fiscalização, julgamento de infrações e de recursos e aplicação de penalidades.

33 - Das quatro alternativas abaixo apenas uma não é considerada infração gravíssima, assinale-a:

- a) Dirigir com farol desregulado ou usando a luz alta para ofuscar.
- b) Dirigir com validade da Carteira Nacional de Habilitação vencida há mais de trinta dias.
- c) Dirigir sem usar lentes corretoras de visão, aparelho auxiliar de audição, de prótese física ou as adaptações do veículo impostas por ocasião da concessão ou da renovação da licença para conduzir.
- d) Transportar crianças em veículo automotor sem observância das normas de segurança especiais contidas no código de trânsito brasileiro.

34 - No rolo compactador, que tipo de rolo é o mais aconselhado a ser usado em uma estrada que acabara de ser cascalhada?

- a) Rolo tandem pneumático.
- b) Rolo pé de carneiro.
- c) Rolo liso.
- d) Rolo pata de ovelha.

35 - Considere as infrações de trânsito abaixo conforme sua característica e assinale a alternativa que corresponde a ordem correta:

- Estacionar o veículo afastado da guia da calçada (meio-fio) a mais de um metro
- Fazer ou deixar que se faça reparo em veículo na via pública, em pista de rolamento de rodovias e vias de trânsito rápido
- Usar o veículo para arremessar, sobre os pedestres ou veículos, água ou detritos

• **Deixar o condutor, envolvido em acidente sem vítima, de adotar providências para remover o veículo do local, quando necessária tal medida para assegurar a segurança e a fluidez do trânsito**

.....

- a) Grave, grave, média, média.
- b) Leve, não é multa, grave, grave.
- c) Média, grave, média, não é multa.
- d) Não é considerada infração de trânsito, grave, grave, grave.

36 - Dispõe no Código de Trânsito Brasileiro:

São objetivos básicos do Sistema Nacional de Trânsito:

Analisando o disposto acima considere as asserções abaixo e depois assinale a alternativa que apresente a somatória das proposições corretas:

(01) - estabelecer diretrizes da Política Nacional de Trânsito, com vistas à segurança, à fluidez, ao conforto, à defesa ambiental e à educação para o trânsito, e fiscalizar seu cumprimento.

(02) - fixar, mediante normas e procedimentos, a padronização de critérios técnicos, financeiros e administrativos para a execução das atividades de trânsito.

(04) - estabelecer a sistemática de fluxos permanentes de informações entre os seus diversos órgãos e entidades, a fim de facilitar o processo decisório e a integração do Sistema.

(08) - estabelecer através de estudos a sistemática de cobranças devidas de multas baseadas em conceitos democraticamente estabelecidos pelo Código de Trânsito Brasileiro.

- a) a soma das corretas corresponde a 3 (três).
- b) a soma das corretas corresponde a 6 (seis).
- c) a soma das corretas corresponde a 11 (onze).
- d) a soma das corretas corresponde a 14 (quatorze).

37 - É impossível carregar caminhões caçamba com qual maquinário?

- a) Retroescavadeira.
- b) Motoniveladora.
- c) Escavadeira hidráulica.
- d) Trator bobcat.

38 - Na manutenção preventiva em uma pá carregadeira, que óleo deve ser conferido com o motor em funcionamento?

- a) Carter.
- b) Hidráulico.
- c) Transmissão.
- d) Fluído de freio.

39 - Qual dos seguintes equipamentos tem uma arquitetura interessante, possuindo uma concha dianteira e uma lança traseira, o que o possibilita efetuar vários tipos de atividades?

- a) Motoniveladora.
- b) Retroescavadeira.
- c) Escavadeira hidráulica.
- d) Trator bobcat.

40 - Que situação oferece um risco no carregamento de caminhões usando uma pá carregadeira?

- a) Carregar com a concha muito cheia.
- b) Carregar com pouco material na concha.
- c) Carregar em situações ou terrenos íngremes.
- d) Carregar muito vagarosamente.

41 - Para o acabamento final em taludes, é aconselhável usar:

- a) A motoniveladora.
- b) A retroescavadeira.
- c) O rolo compactador.
- d) O trator esteira.

42 - É impossível realizar a abertura de valas com este veículo:

- a) Pá carregadeira.
- b) Motoniveladora.
- c) Retroescavadeira.
- d) Escavadeira hidráulica.

43 - No transporte do rolo compactador, dirigindo um caminhão prancha por uma Rodovia (Via Rural Pavimentada) qual a velocidade máxima que se pode desenvolver?

- a) 60 km/h.
- b) 80 km/h.
- c) 90 km/h.
- d) 100 km/h.

44 - Aquele operador de máquinas que comete uma infração de trânsito gravíssima soma quantos pontos negativos em seu prontuário de habilitação?

- a) 10.
- b) 5.
- c) 6.
- d) 7.

45 - Considere a seguinte situação hipotética e responda a pergunta que segue:

Trabalhando com máquina pela prefeitura, na limpeza da cidade, há necessidade de portar Carteira Nacional de Habilitação? Em que categoria?

- a) Não, pois funcionários públicos gozam de livre circulação quando operando maquinário municipal.
- b) Sim, na categoria "B".
- c) Sim, na categoria "C".
- d) Sim, na categoria "D".

46 - Pelo Código de Trânsito Brasileiro, o uso do cinto de segurança pelo operador de máquinas é:

- a) Facultativo.
- b) Obrigatório, passível de multa grave.
- c) Obrigatório, passível de advertência verbal.
- d) Obrigatório, passível de multa multivacional.





47 - Até 65 anos de idade a Carteira Nacional de Habilitação vence a cada:

- a) 30 anos, ou conforme laudo médico.
- b) 4 anos, ou conforme laudo médico.
- c) 5 anos, ou conforme laudo médico.
- d) 7 anos, ou conforme laudo médico.

48 - Não é aconselhável transitar em longas distâncias com máquinas rodoviárias, mas por questões de necessidade às vezes é impossível privar totalmente tal condição, mas há uma máquina que é impossível de deslocar-se por distâncias longas. Qual das seguintes?

- a) Moto niveladora.
- b) Retro escavadeira.
- c) Pá carregadeira.
- d) Escavadeira hidráulica.

49 - Qual dos seguintes símbolos indica a proibição de um operador circular com uma máquina agrícola?

- a) 
- b) 
- c) 
- d) 

50 - Qual dos seguintes símbolos não é regulamentado pelo Código de Trânsito Brasileiro?

